


| | | |
|---|---|--------------------|
|  <p>POLITÉCNICA</p> | <p>UNIVERSIDAD POLITÉCNICA DE MADRID PRUEBA DE ACCESO PARA MAYORES DE 25 AÑOS GEOGRAFÍA</p> | <p>2025</p> |
|---|---|--------------------|

INSTRUCCIONES GENERALES Y VALORACIÓN

Instrucciones: Después de leer atentamente el examen, responda de la siguiente forma:

PRIMERA PARTE. TÉRMINOS Y CONCEPTOS: Defina **seis** términos o conceptos geográficos, como máximo, a elegir entre los doce que componen la primera parte de las opciones A y B.

SEGUNDA PARTE. TEMA: Elija un tema entre la opción A o B.

TERCERA PARTE. EJERCICIO: Elija un ejercicio entre la opción A o B.

Puntuación: La puntuación total será, en ambas pruebas de **10 puntos**, correspondiendo a la primera parte **3 puntos**, a la segunda **5 puntos** y a la tercera **2 puntos**.

Tiempo: 1 hora y 30 minutos.

OPCIÓN A

PRIMERA PARTE:

Defina los siguientes términos o conceptos geográficos (3 puntos):

Biodiversidad, rotación de cultivos, saldo migratorio, galerna, tejido urbano, Fondo Monetario Internacional (FMI)

SEGUNDA PARTE:

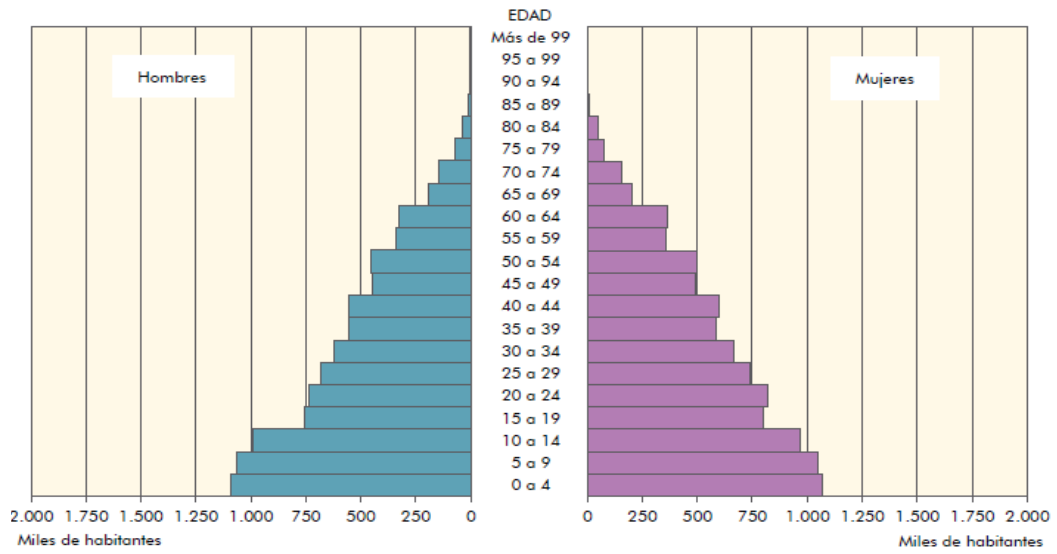
Desarrollar el siguiente tema (5 puntos):

- **La hidrografía:** La diversidad hídrica de la península y las islas.

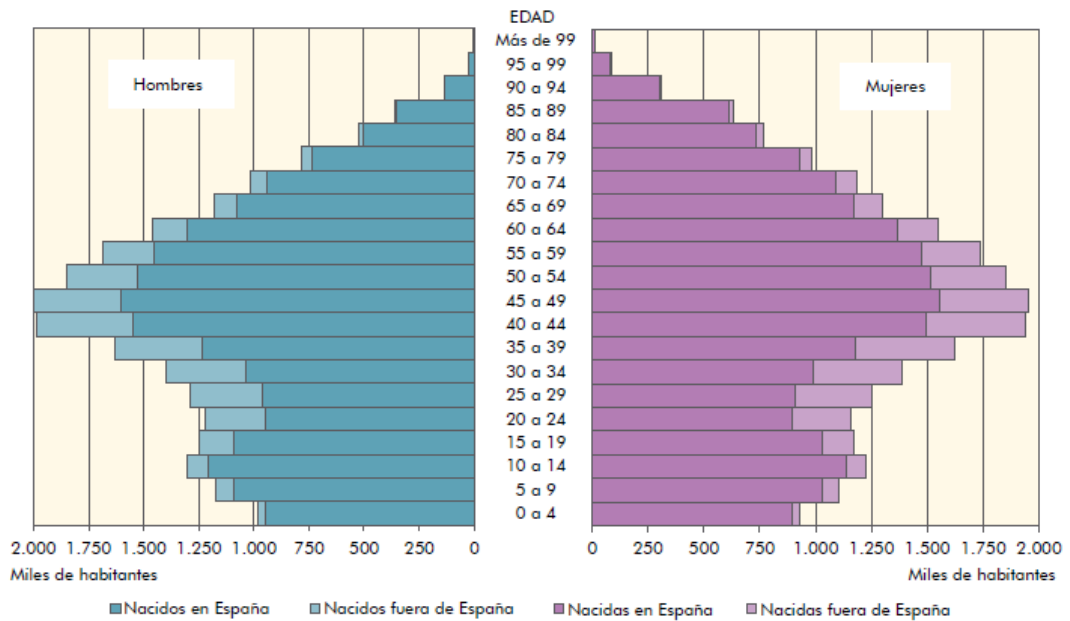
TERCERA PARTE:

A partir de las siguientes pirámides de población, realiza un comentario y explica las posibles razones de la evolución de la distribución por edad y sexo de la población española entre 1900 y el 2021 (2 puntos):

Pirámide de población por edades y sexos 1900. Fuente: INE



Pirámide de población por edades y sexos 2021. Fuente: INE



OPCIÓN B

PRIMERA PARTE:

Defina los siguientes términos o conceptos geográficos (3 puntos):

Ciudad difusa, lacustre, reciclaje, monopolio, burbuja inmobiliaria o especulativa, esperanza de vida

SEGUNDA PARTE:

Desarrollar el siguiente tema (5 puntos):

- **El sector servicios:** La terciarización de la economía española: influencia en el PIB. La población activa del sector terciario

TERCERA PARTE:

Analiza el mapa que se adjunta de las “Provincias con mayor número de turistas 2015” e indica el nombre de las provincias que aparecen marcadas en un color más oscuro y comenta las posibles causas de este hecho (2 puntos):

